

المادة : التاريخ (الحضارة الإسلامية)

الصف: الحادي عشر

للعام الدراسي ١٤٤٤هـ - ٢٠٢٢/٢٠٢٣م

الدور الثاني الفصل الدراسي الثاني

● زمن الامتحان : (ساعتان) ● عدد صفحات أسئلة الامتحان: (11) صفحات.

● الإجابة في الدفتر نفسه .

		اسم الطالب
الصف		المدرسة

التوقيع بالاسم		الدرجة		الترتيب
المصحح الثاني	المصحح الأول	بالحروف	بالأرقام	
				1
				2
				3
				4
				5
مراجعة الجمع				المجموع
				المجموع الكلي

(1)

المادة : التاريخ (الحضارة الإسلامية) الصف : الحادي عشر الدور الثاني الدراسي 2023/2022م

أجب عن جميع الأسئلة الآتية

السؤال الأول: ضع دائرة حول رمز الإجابة الصحيحة لكل مفردة من المفردات الآتية:

(12 درجة)

1. القرن الهجري الذي وصل فيه الإسلام إلى الهند:

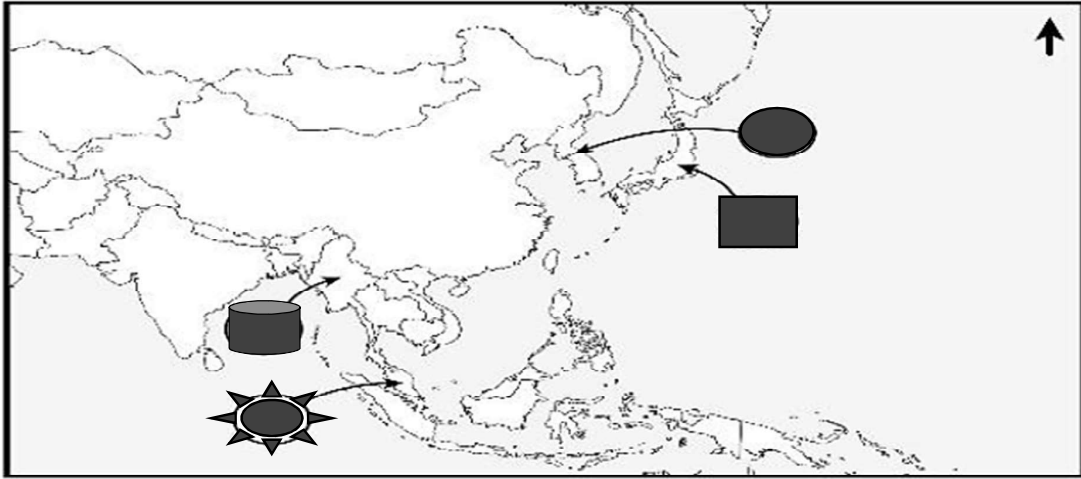
- أ) 1 ب) 2 ج) 3 د) 4

2. الترتيب الصحيح لقيام الدويلات الإسلامية المستقلة في وسط آسيا من الأقدم إلى

الأحدث :

- أ) الخوارزمية ← السلجوقية ← البويهية ب) البويهية ← السلجوقية ← الخوارزمية
ج) البويهية ← الخوارزمية ← السلجوقية د) السلجوقية ← البويهية ← الخوارزمية

3. الرمز الذي يشير إلى البلاد التي عرفت قديماً باسم الشيلا:



- أ) ■ ب) ☀ ج) 🪴 د) ●

تابع السؤال الأول:

4. كتاب ألفه العالم أبو مسلم البهلاني الرواحي:
أ)هداية الأطفال (ب)نثار الجواهر (ج)قاموس الشريعة (د) هيمان الزاد

5.الدولة التي يقع فيها المسجد الموضح في الصورة المقابلة:



أ) الهند (ب) الصين

ج) بنجلاديش (د) ماليزيا

6.العلم الذي برع فيه العالم المسلم الفارابي:
أ)الحديث (ب) التفسير (ج) الفلسفة (د) الطب

7. الدولة التي تنتمي إلى إقليم شرق آسيا :

أ)اليابان (ب)الهند (ج)اندونيسيا (د) ماليزيا

8.الصناعة التي اشتهرت بها مدينة قرطبة في الأندلس:

أ) الجلود (ب) الورق (ج)الأسلحة (د) الزجاج

9.العام الميلادي الذي تمكن فيه المماليك من طرد الصليبيين نهائياً:

أ) 1288 (ب) 1289 (ج) 1290 (د) 1291

تابع السؤال الأول:

*استعن بالصورة المقابلة للإجابة على المفردتين (10 - 11):



10.المجال الذي يبحث فيه الكتاب الظاهر أمامك:

(أ) الفلك

(ب) الفيزياء

(د) الكيمياء

(ج) الصيدلة

11.العالم المسلم الذي ألفه:

(ب) الرازي

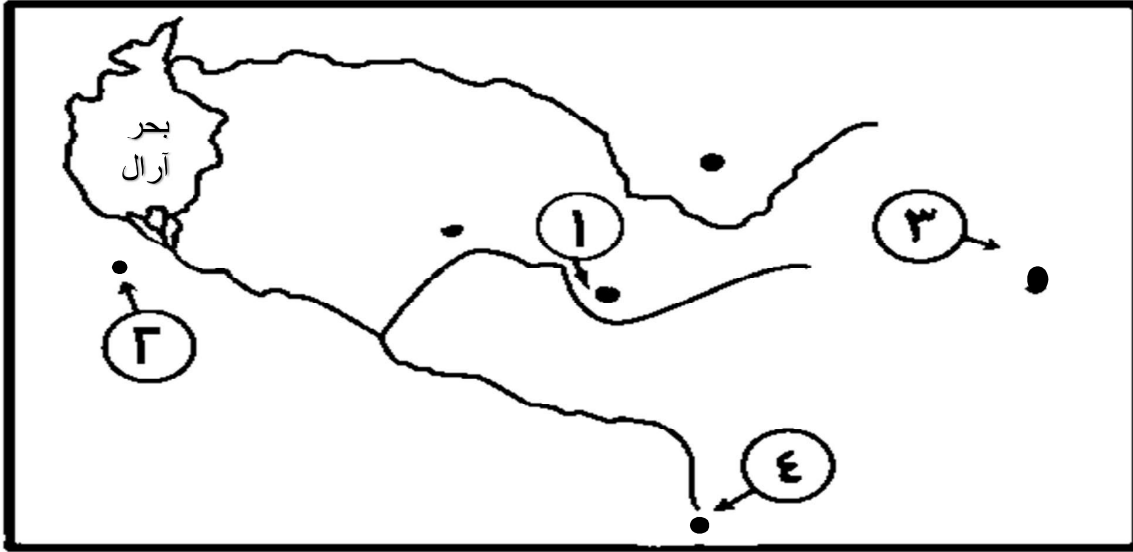
(د) المقدسي

(أ) الزهراوي

(ج) البيروني

12.الرقم الذي يشير إلى المدينة التي أطلق عليها الرحالة العرب اسم (الياقوتة) في

الخريطة المقابلة:

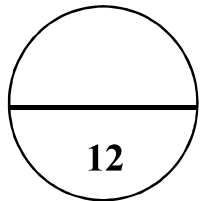


4(د)

3(ج)

2(ب)

1(أ)



(4)

المادة : التاريخ (الحضارة الإسلامية) الصف : الحادي عشر الدور الثاني الدراسي 2023/2022م

(12 درجة)

السؤال الثاني:

أولاً: أجب عن الأسئلة الآتية:

أ) أكتب المصطلح الدال على العبارات التالية:

م	العبرة	المصطلح
1	مزيج من اللغة العربية ولغات أفريقية قديمة
2	دكاكين بيع الكتب ثم غدت مسرحاً للثقافة والحوار العلمي في العصر العباسي

ب) اذكر اثنين من ملامح التطور السياسي الذي أحدثه آل الجلندي في منطقة لامو .

1.
2.

ثانياً : صنف الدول التالية حسب الإقليم الجغرافي الذي تنتمي إليه :

(باكستان / الفلبين / نيبال / ماليزيا)

جنوب آسيا

.....(3)

.....
.....
.....

.....(4)

.....
.....
.....

جنوب شرق آسيا

.....(1)

.....
.....
.....

.....(2)

.....
.....
.....

(5)

المادة : التاريخ (الحضارة الإسلامية) الصف : الحادي عشر الدور الثاني الدراسي 2023/2022م

ثالثا: "لوسط آسيا مكانة كبيرة في التاريخ الإسلامي، فهي مهد علم وموطن علماء، وما زال يشهد لتلك المكانة أسماء المدن والدويلات التاريخية العظيمة التي غدت منارات إشعاع ثقافي وحضاري".

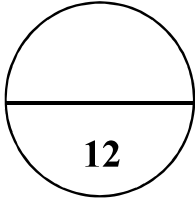
في ضوء هذه العبارة، أجب عن الاسئلة التالية:

1. عدد اثنين من مدن وسط آسيا التي أصبحت منارات إشعاع ثقافي في العالم.

.....

2. قارن بين الدولة السامانية والدولة السلجوقية في الجدول التالي:

الدولة السلجوقية	السامانية	الدولة أوجه المقارنة
.....(2)(1)	الفترة الزمنية
.....(4)(3)	نسبها



(12درجة)

السؤال الثالث: أجب عن الأسئلة الآتية:

أولا:

(أ) أذكر نتيجة واحدة ترتبت على كل من:

1. احتكاك الصليبيين بالفرسان المسلمين.

.....

2. الصفات الخلقية الطيبة التي اتصف بها الدعاة والتجار العمانيون في منطقة جنوب

شرق آسيا.

.....

(6)

المادة : التاريخ (الحضارة الإسلامية) الصف : الحادي عشر الدور الثاني الدراسي 2023/2022م

ب) علل ما يلي :

1- حرص النورمان على إبقاء المسلمين في جزيرة صقلية.


.....

2- أطلقت جامعة برنستون الأمريكية اسم أبي بكر الرازي على أفخم أجنحتها.


.....

ثانياً: أجب عن الأسئلة الآتية :

أ. اكتب أسفل كل صورة اسم المعلم الأثري:



.....



.....

ب. اكتب اثنين من النباتات التي انتشرت في البلدان الواقعة في غربي البحر المتوسط بعد الحروب الصليبية.

1.

2.

(7)

المادة : التاريخ (الحضارة الإسلامية) الصف : الحادي عشر الدور الثاني الدراسي 2022/2023م

تابع السؤال الثالث:

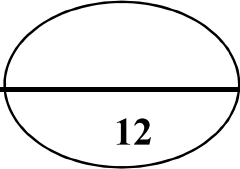
ثالثاً :

أرتب الأحداث التاريخية التالية بكتابة الأرقام (1-4) حسب تسلسلها من الأقدم إلى الأحدث:

1. طباعة كتاب القانون في روما (.....)
2. قيام الدولة العثمانية (.....)
3. إنشاء أول مصنع للورق في مدينة بغداد (.....)
4. وصول الفتوحات العثمانية إلى فيينا عاصمة النمسا (.....)

ب. استورد العمانيون عدد من السلع من سواحل الصين الجنوبية . دلل على ذلك.

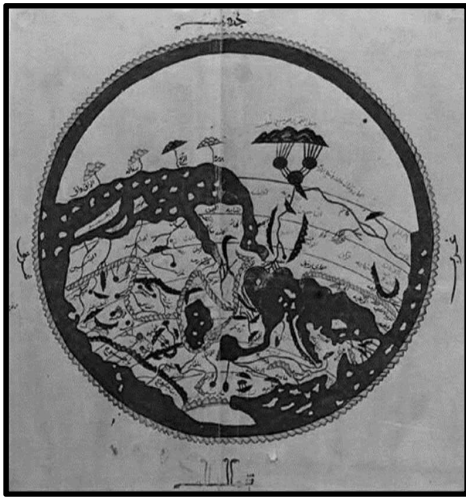
.....
.....



12

السؤال الرابع:

أولاً : ادرس الشكل المقابل الذي يمثل خريطة رسمها عالم مسلم ، ثم اجب عن الأسئلة التي تليه :



أ.العالم الجغرافي الذي رسم هذه الخريطة.

.....

ب.الكتاب الذي وصفها.

.....

ج.الملك الأوروبي الذي أمر برسمها.

.....

د.الجزيرة التي رُسمت فيها .

.....

المادة : التاريخ (الحضارة الإسلامية) الصف : الحادي عشر الدور الثاني الدراسي 2023/2022م

تابع السؤال الرابع: أجب عن الأسئلة التالية:
ثانياً: أكمل المخطط التالي:

1. سنة مولده:	2. صفاته:
محمد بن إسماعيل البخاري	
3. العلم الذي تخصص فيه:	4. أشهر كتبه:

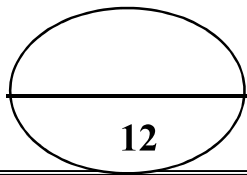
ثالثاً :

أ. قارن بين حكم دولة النباهنة ودولة البوسعيد في شرقي أفريقيا، وفقاً للجدول التالي:

دولة البوسعيد	دولة النباهنة	الدولة وجه المقارنة
2.....	1.....	العاصمة

ب. دلل على إنجازات ابن النفيس في العلوم الطبية.

.....
.....




السؤال الخامس: أجب عن الأسئلة التالية: (12 درجة)

أولاً : أجب عن الأسئلة الآتية :

(أ) انسب العبارات الآتية إلى قائلها:

1. "من أراد أن يكون عالماً فليطلب فناً واحداً " (.....).
2. "إن المعرفة لا تحصل إلا بالعمل وإجراء التجارب" (.....).

(ب) اكتب أسفل كل صورة المجال المرتبط بها من مجالات التأثير العُماني في شرقي أفريقيا:



.....(3)

.....(2)

.....(1)

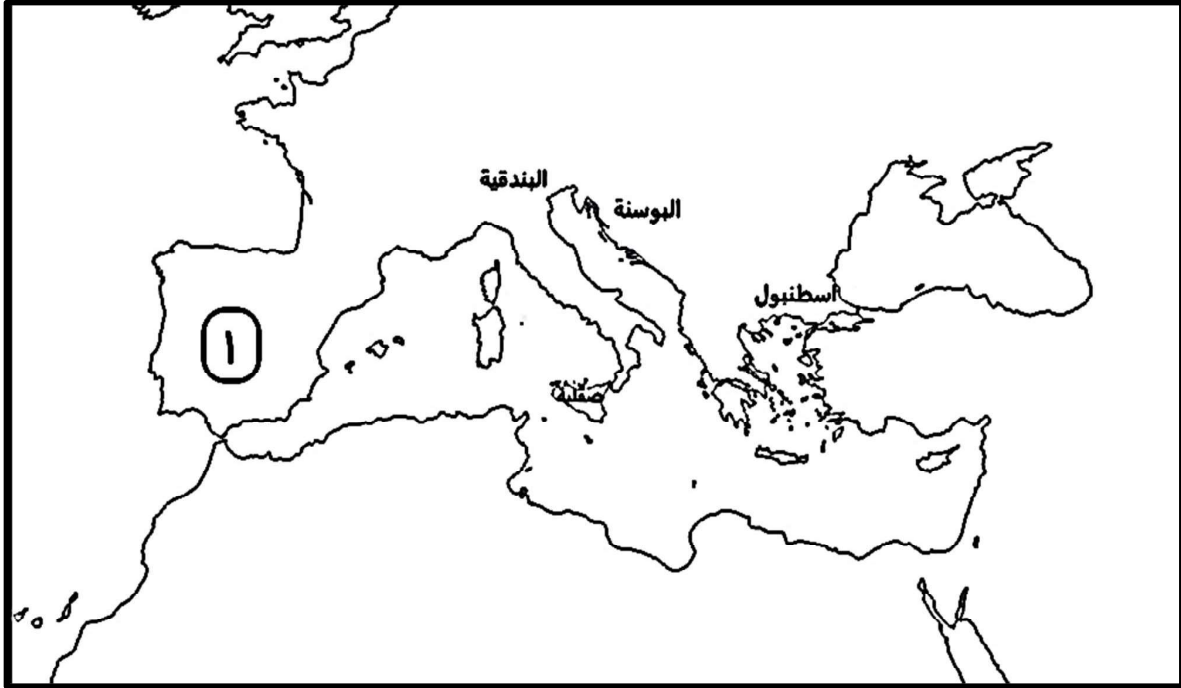
ثانياً: أجب عن الأسئلة الآتية:

(أ) وضح دور جابر بن حيان في مجال علم الكيمياء.

.....
.....

تابع: السؤال الخامس:

ب. ادرس الخريطة المقابلة ثم اجب عن الاسئلة التي تليها:



1. ضع دائرة حول الجزيرة التي قال عنها دانتي إن الشعر الإيطالي ولد فيها.
2. استخرج من الخريطة المدينة التي يوجد بها المسجد الأزرق.

3. دلل على التقدم الثقافي في المدينة المشار إليها بالرقم (1) أثناء الحكم الإسلامي.

ثالثاً: عدد اثنين لكلاً من:

1. الكلمات الانجليزية التي لها أصول عربية في مجال الفلك.

2. من مميزات شعر التروبادور الذي ظهر في شمالي أسبانيا وجنوب فرنسا.

انتهت الأسئلة تمنياتنا للجميع بالنجاح والتوفيق